

**Ujian Akhir Sekolah  
Tahun 2007  
Ilmu Pengetahuan Sosial**

**I. Silanglah (X) huruf jawaban (A, B, C atau D) sebagai jawaban yang paling tepat**

**UAS-07-01**

Menghargai keragaman budaya bangsa dapat dilakukan dengan cara ...

- A. mempelajari akar budaya bangsa
- B. mempelajari hanya budaya daerah sendiri
- C. melarang budaya lain masuk ke Indonesia
- D. membiarkan budaya lain masuk

**UAS-07-02**

Pada peta di bawah ini, daerah penghasil timah ditunjukkan dengan huruf ...



- A. H
- B. I
- C. J
- D. K

**UAS-07-03**

Contoh bahan baku yang dapat diolah menjadi barang jadi adalah ...

- A. kayu lapis
- B. plastik
- C. semen
- D. rotan





**UAS-07-04**

Rasa persatuan dan kesatuan rakyat Indonesia mulai tumbuh sejak ...

- A. dijajah Belanda
- B. kedatangan Jepang
- C. Indonesia merdeka
- D. berdirinya Budi Utomo

**UAS-07-05**

Pada peta, candi ditunjukkan dengan simbol ...

- A. 
- B. 
- C. 
- D. 

**UAS-07-06**

Pangeran Antasari adalah pahlawan dari daerah ...

- A. Palangkaraya
- B. Pontianak
- C. Banjarmasin
- D. Samarinda

**UAS-07-07**

Untuk mempersiapkan kemerdekaan Indonesia, Jepang membentuk ...

- A. PETA
- B. Heiho
- C. PUTERA
- D. BPUPKI

**UAS-07-08**

Kota-kota yang terletak di wilayah waktu Indonesia bagian tengah di antaranya adalah ...

- A. Banjarmasin, Denpasar, dan Mataram
- B. Menada, Ujung Pandang, dan Sorong
- C. Pontianak, Banjarmasin, dan Palu
- D. Surabaya, Denpasar, dan Ambon

**UAS-07-09**

Perubahan gejala hidup masyarakat merupakan salah satu akibat adanya ...

- A. reformasi
- B. globalisasi
- C. sosialisasi
- D. disposisi

**UAS-07-10**

Banyak perusahaan asing beroperasi di Indonesia. Hal ini disebabkan ...

- A. meningkatnya kesejahteraan
- B. tersedianya tenaga kerjaterampil
- C. upah kerja yang murah
- D. tersedianya modal usaha

**UAS-07-11**

Keuntungan adanya perusahaan asing di Indonesia di antaranya adalah ...

- A. memberi upah kerja yang tinggi
- B. menghasilkan produk yang murah
- C. mengharuskan karyawan untuk diasuransikan
- D. menyediakan lapangan pekerjaan

**UAS-07-12**

Dalam mengelola sumber daya alam yang ada, pemerintah memiliki keterbatasan, antara lain ...

- A. modal dan tenaga terampil
- B. modal dan fasilitas
- C. modal dan bahan baku
- D. fasilitas dan bahan baku

**UAS-07-13**

Setelah Sutan Syahrir tahu akan kekalahan Jepang, maka ia ...

- A. memproklamasikan kemerdekaan Republik Indonesia
- B. mengangkat Ir. Soekarno menjadi presiden Republik Indonesia
- C. mendesak agar kemerdekaan Indonesia segera dilaksanakan
- D. berusaha untuk mendekati tentara sekutu

**UAS-07-14**

Tugas BPUPKI antara lain adalah ...

- A. merumuskan dasar negara
- B. merumuskan teks proklamasi
- C. menentukan bendera pusaka
- D. menentukan bahasa persatuan

**UAS-07-15**

Salah satu contoh sikap menghargai jasa-jasa para pahlawan kemerdekaan adalah ...

- A. memasang gambar pahlawan di rumah
- B. mengucapkan terima kasih pada keluarganya
- C. memperindah makam para pahlawan
- D. mengikuti peringatan hari kemerdekaan

**UAS-07-16**

Penyerangan Belanda terhadap RI pada tanggal 19 Desember 1948 dikenal dengan istilah ...

- A. Agresi Militer Belanda I
- B. Agresi Militer Belanda II
- C. Peristiwa Bandung Lautan Api
- D. Peristiwa Bojongsokosan

**UAS-07-17**

Tujuan utama koperasi adalah ...

- A. mencari keuntungan bagi pengurus
- B. mencari keuntungan sebanyak-banyaknya
- C. menyediakan barang kebutuhan anggota
- D. meningkatkan kesejahteraan anggota

**UAS-07-18**

Perbedaan koperasi dengan usaha lain terutama dalam hal ...

- A. tujuan
- B. modal
- C. kegiatan
- D. karyawan

**UAS-07-19**

Jenis koperasi berdasarkan keanggotaannya antara lain ...

- A. koperasi produksi
- B. koperasi usaha tani
- C. koperasi simpan pinjam
- D. koperasi serba usaha

**UAS-07-20**

Koperasi sekolah dibentuk untuk memenuhi kebutuhan berikut, kecuali ...

- A. makanan jajanan anak sekolah
- B. pakaian seragam sekolah
- C. alat-alat kesehatan
- D. buku dan alat tulis lainnya

**UAS-07-21**

Daftar barang:

- (1) barang elektronika
- (2) kayu lapis
- (3) minyak bumi
- (4) gas alam
- (5) mesin otomotif

Dari daftar di atas, yang merupakan barang ekspor hasil kekayaan alam Indonesia adalah nomor ...

- A. 1, 2, dan 3
- B. 1, 3, dan 4
- C. 2, 3, dan 4
- D. 3, 4, dan 5

**UAS-07-22**

Masalah sosial di Indonesia yang perlu diwaspadai adalah masalah ...

- A. kelautan
- B. penduduk
- C. pemerintahan
- D. kekayaan alam

**UAS-07-23**

Dampak positif terjadinya pertumbuhan penduduk yang cepat adalah ...

- A. banyaknya jumlah penduduk
- B. terpenuhinya segala kebutuhan masyarakat
- C. tersedianya tenaga kerja yang banyak
- D. meningkatnya kesejahteraan masyarakat

**UAS-07-24**

Lihatlah peta di samping!  
Letak negara Mongolia  
ditunjukkan dengan angka



- ...  
A. 1  
B. 2  
C. 3  
D. 4

**UAS-07-25**

Pesawat terbang jenis Concorde merupakan pesawat  
produksi bersama antara negara ...

- A. Inggris dan Perancis  
B. Inggris dan Belanda  
C. Perancis dan Amerika  
D. Italia dan Amerika

**II. Lengkapi soal-soal berikut dengan jawaban yang benar!**

**UAS-07-26**

Benua Amerika dan Afrika dipisahkan oleh Samudera ...

**UAS-07-27**

Taj Mahal merupakan bangunan yang berbentuk ...

**UAS-07-28**

Grand Canyon merupakan kenampakan alam unik yang  
terdapat di negara ...

**UAS-07-29**

Peristiwa Bandung Lautan Api mengingatkan kita  
kepada seorang pahlawan yang bernama ...

**UAS-07-30**

Perusahaan besar yang membuka usahanya di berbagai  
negara disebut perusahaan ...

**UAS-07-31**

UUD 1945 pasal 31 ayat 2 menyatakan bahwa setiap  
warga negara berhak mendapatkan ...

**UAS-07-32**

Ami seorang murid berprestasi, namun orangtuanya  
tidak mampu. Semestinya ia berhak mendapatkan  
bantuan ...

**UAS-07-33**

Lembaga ekonomi yang berasaskan kekeluargaan  
adalah ...

**UAS-07-34**

Negara "Tirai Bambu" adalah julukan bagi negara ...

**UAS-07-35**

Hak asasi manusia sebenarnya berasal dari ...

**III. Jawablah pertanyaan di bawah ini dengan tepat!**

**UAS-07-36**

Tuliskan sumber-sumber potensi bangsa!

**UAS-07-37**

Apa perbedaan antara koperasi dengan bentuk usaha  
lainnya?

**UAS-07-38**

Sebutkan nama-nama negara pendiri ASEAN!

**UAS-07-39**

Tuliskan dua bintang alam yang membatasi Benua  
Asia dan Eropa!

**UAS-07-40**

Sebutkan berbagai upaya untuk mendapat cita-cita!