


**EVALUASI BELAJAR TAHAP AKHIR NASIONAL
TAHUN 1999
IIMU PENGETAHUAN SOSIAL**

EBTANAS-99-01

Perhatikan peta berikut!



Daerah yang ditandai anak panah merupakan penghasil tambang ...

- A. timah
- B. minyak bumi
- C. tembaga
- D. mangan

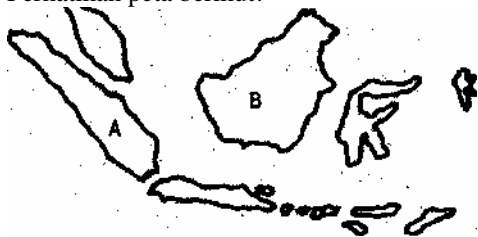
EBTANAS-99-02

Peninggalan kerajaan Tarumanegara terletak di daerah sekitar ...

- A. Muntilan, Jawa Tengah
- B. Bogor, Jawa Barat
- C. Kediri, Jawa Timur
- D. Mahakam, Kalimantan Timur

EBTANAS-99-03

Perhatikan peta berikut!



Dua pulau yang ditandai huruf A dan B dihubungkan oleh ...

- A. Selat Sunda
- B. Selat Bali
- C. Selat Karimata
- D. Selat Makasar

EBTANAS-99-04

Relief pada dinding Candi Borobudur menceritakan tentang kehidupan ...

- A. Sidharta Gautama
- B. Brahmana
- C. Bodisatwa
- D. Wisnu dan Syiwa

EBTANAS-99-05

Perhatikan label di bawah!

No.	Bidang usaha
1	Tekstil
2	Farmasi
3	Toko/kios
4	Bengkel mobil
5	Pabrik sepatu

Contoh usaha bidang industri dari tabel di samping adalah ...

- A. nomor 1, 2, dan 3
- B. nomor 1, 2, dan 4
- C. nomor 2, 3, dan 4
- D. nomor 1, 2, dan 5

EBTANAS-99-06

Badan usaha yang bertujuan meningkatkan kesejahteraan anggotanya adalah ...

- A. koperasi
- B. firma
- C. yayasan
- D. Perseroan Terbatas (PT)

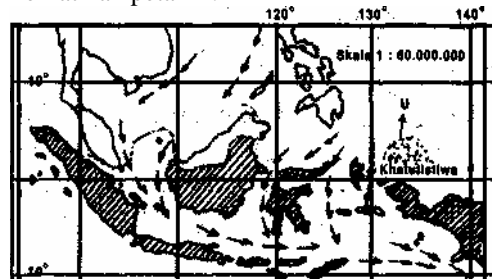
EBTANAS-99-07

Tujuan bangsa Belanda datang ke Indonesia adalah ...

- A. berdagang dan mencari rempah-rempah
- B. menjajah dan menguasai negara Indonesia
- C. berdagang dan menyebarkan agama
- D. menguasai raja-raja Islam di Pulau Jawa

EBTANAS-99-08

Perhatikan peta ini!



Arah angin bertiup dari timur laut menuju ...

- A. Utara
- B. Selatan
- C. Barat daya
- D. Tenggara

EBTANAS-99-09

Perhatikan peta ini!



Dua propinsi di bagian selatan yang berbeda wilayah waktu adalah ...

- A. nomor 1 dan 2
- B. nomor 2 dan 3
- C. nomor 3 dan 4
- D. nomor 2 dan 3

EBTANAS-99-10

Rumusan Sumpah Pemuda dibuat oleh ...

- A. Sugondo Joyopuspito
- B. Amir Syaripudin
- C. Ir. Soekarno
- D. Mr. Muhamad Yamin

EBTANAS-99-11

Organisasi pemuda yang pertama berdiri di Indonesia adalah ...

- A. Partindo
- B. Budi Utomo
- C. Tri Koro Dharmo
- D. Indonesia Muda

EBTANAS-99-12

Berdasarkan sensus penduduk tahun 1990, jumlah penduduk Propinsi Jawa Tengah 28.517.116 jiwa, yang luas wilayahnya 34.862 km².

Kepadatan penduduk kiraiy a adalah ...

- A. 439 jiwa
- B. 679 jiwa
- C. 801 jiwa
- D. 818 jiwa

EBTANAS-99-



Gambar di samping adalah tarian daerah yang berasal dari ...

- A. Jawa Barat
- B. Jawa Tengah
- C. Jawa Timur
- D. D. I. Yogyakarta

EBTANAS-99-14

Perlawanan terhadap Jepang yang dipimpin oleh Supriyadi terjadi di daerah ...

- A. Aceh
- B. Blitar
- C. Singaparna
- D. Indramayu

EBTANAS-99-15

Berikut ini adalah penderitaan rakyat pada jaman penjajahan Jepang, kecuali ...

- A. tanam paksa
- B. kelaparan
- C. penyiksaan
- D. kerja paksa

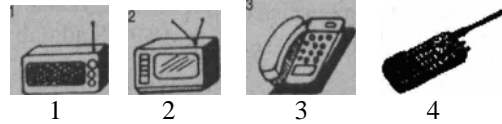
EBTANAS-99-16

Berikut ini adalah persyaratan yang harus dimiliki pembayar pajak, kecuali ...

- A. memiliki Nilai Jual Objek Pajak (NJOP)
- B. mempunyai Nomor Pokok Wajib Pajak (NPWP)
- C. mengisi Surat Pemberitahuan Tahunan (SPT)
- D. mendapatkan diri ke Kantor Pelayanan Pajak (KPP)

EBTANAS-99-

Perhatikan gambar ini!



Alat komunikasi satu arah adalah ...

- A. nomor 1 dan 4
- B. nomor 1 dan 2
- C. nomor 2 dan 3
- D. nomor 3 dan 4

EBTANAS-99-18

UNESCO adalah badan khusus PBB yang menangani bidang ...

- A. kesehatan masyarakat
- B. bahan makanan dan pertanian
- C. perburuhan dan tenaga kerja
- D. pendidikan, ilmu pengetahuan, dan kebudayaan

EBTANAS-99-19

Pejabat tinggi negara setingkat menteri yang bertugas mengusut pelanggaran tindak pidana dan perdata adalah ...

- A. Hakim Agung
- B. Menteri Kehakiman
- C. PanglimaABRI
- D. Jaksa Agung

EBTANAS-99-20

Hak anggota DPR untuk mengajukan pertanyaan kepada pemerintah disebut ...

- A. hak budget
- B. hak angket
- C. hak inisiatif
- D. hak interpelasi

EBTANAS-99-21

Wilayah Indonesia terletak di antara dua benua, yaitu ...

- A. Benua Afrika dan Australia
- B. Benua Asia dan Australia
- C. Benua Australia dan Amerika
- D. Benua Afrika dan Asia

EBTANAS-99-22

Penyebab terjadinya pertempuran di Surabaya pada tanggal 10 Nopember 1945 adalah ...

- A. Inggris melanggar janji untuk meninggalkan Surabaya
- B. Brigjen Mallaby tewas dalam pertempuran di Jembatan Merah
- C. Belanda melanggar gencatan senjata
- D. Pemerintah RI menolak ultimatum (ancaman) tentara Inggris

EBTANAS-99-23

Dalam Agresi Militer Belanda II, Panglima Besar Jenderal Sudirman berperan sebagai ...

- A. pemimpin pertempuran dengan jalan perundingan
- B. pemimpin perundingan dengan perjanjian damai
- C. pemimpin dan pengatur siasat perang gerilya
- D. pemimpin penyerangan daerah kantong

EBTANAS-99-24

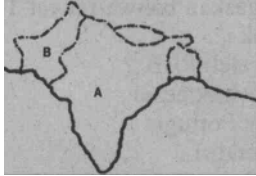
Kelompok negara yang terletak di Asia Tenggara pada label di samping adalah ...

No.	Nama Negara
1	Brunei
2	Thailand
3	Banglades
4	Korea Selatan
5	Vietnam

- A. nomor 1, 2 dan 3
- B. nomor 1, 2 dan 4
- C. nomor 1, 2 dan 5
- D. nomor 3, 4 dan 5

EBTANAS-99-25

Perhatikan peta berikut



Negara yang ditandai dengan huruf A dan B adalah ...

- A. India dan Pakislan
- B. Pakistan dan Nepal
- C. Pakistan dan Bhutan
- D. India dan Nepal

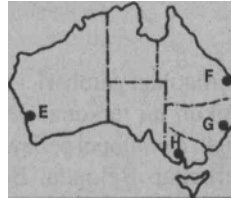
EBTANAS-99-26

Perbedaan bentuk pemerintahan negara Pakistan dan Arab Saudi adalah ...

- A. republik dan persemakmuran
- B. republik dan kerajaan
- C. kerajaan dan konsultanan
- D. kerajaan dan persemakmuran

EBTANAS-99-27

Perhalikan peta ini!



Ibu kota negara bagian Victoria ditandai dengan ...

- A. huruf E
- B. huruf F
- C. huruf G
- D. huruf H

EBTANAS-99-28

Hasil penyelenggaraan PEPERA membuktikan keinginan rakyat Irian Barat untuk ...

- A. bersatu dengan Papua
- B. menentukan kemerdekaan sendiri
- C. bersatu dengan RI
- D. tetap menjadi bagian dari Belanda

EBTANAS-99-29

Presiden Soekarno mencanangkan TRIKORA, karena pemerintah Belanda ...

- A. menyiapkan pembentukan negara Papua
- B. mempersenjatai rakyat Irian Barat
- C. membentuk satuan operasi militer
- D. menyelenggarakan Pemilu di Irian Baral

EBTANAS-99-30

Pahlawan Revolusi pada gambar di samping bernama ...



- A. Ahmad Yani
- B. R. Supraplo
- C. M.T. Haryono
- D. S. Parman

EBTANAS-99-31

Terusan Suez menghubungkan laut Tengah dengan Laut Merah, terletak di negara ...

- A. Sudan
- B. Libya
- C. Mesir
- D. Maroko

EBTANAS-99-32

Perhatikan tabel ini!

No.	Nama Negara
1	Italia
2	Belanda
3	Perancis
4	Finlandia
5	Islandia

Dua negara yang terletak di kawasan Eropa Utara adalah ...

- A. nomor 1 dan 2
- B. nomor 2 dan 3
- C. nomor 3 dan 4
- D. nomor 4 dan 5

EBTANAS-99-33

Komoditas ekspor utama negara Brazil adalah ...

- A. teh
- B. coklat
- C. kopi
- D. tebu

EBTANAS-99-34

Perjanjian Balibo menegaskan bahwa rakyat Timor Timur berkeinginan untuk ...

- A. penanganan khusus oleh PBB
- B. berintergrasi dengan Indonesia
- C. tetap menjadi jajahan Portugis
- D. mendirikan negara sendiri

EBTANAS-99-35

Tokoh penjelajah dunia yang berhasil mencapai kutub utara dan selatan bernama ...

- A. Ronald Amundesen
- B. Christopher Columbus
- C. Marco Polo
- D. Vasco da Gama

II Isilah titik-titik di bawah ini dengan tepat!

EBTANAS-99-36

Dangkalan Sahul terletak di wilayah Indonesia Timur. Pulau terbesarnya adalah ...

EBTANAS-99-

Perhatikan gambar!



Tokoh ini terkenal dengan gigih memimpin perlawanan terhadap Belanda. Beliau memiliki siasat dalam berperang yang dikenal dengan perang ...

EBTANAS-99-38

Tanaman perkebunan yang cocok di daerah pegunungan selain teh adalah ...

EBTANAS-99-39

Jenis binatang tipe Asia yang dilatih di daerah Way Kambas (Lampung) adalah ...

EBTANAS-99-40

Ciri khas produksi tanaman hortikultura dari daerah Garut adalah ...

EBTANAS-99-41

Fungsi Gubernur sebagai aparat Pemerintah Pusat di bidang eksekutif adalah ...

EBTANAS-99-42

Tugas MPR yang berkaitan dengan pemerintahan adalah ...

EBTANAS-99-43

Komoditas non migas berupa hasil perikanan Indonesia yang diekspor ke negara ASEAN adalah ...

EBTANAS-99-44

Komoditas ekspor terbesar negara Thailand ke Indonesia adalah ...

EBTANAS-99-45

Alexander Graham adalah tokoh yang berjasa dalam bidang telekomunikasi. Beliau terkenal sebagai penemu ...

III Jawablah pertanyaan di bawah ini dengan benar!

EBTANAS-99-46

Tuliskan 2 (dua) manfaat hutan wisata!

EBTANAS-99-47

Tuliskan 2 (dua) alasan terjadinya perlawanan Patih Kerajaan Buleleng terhadap Belanda!

EBTANAS-99-48

Tuliskan 2 (dua) kegunaan pajak untuk anggaran pembangunan!

EBTANAS-99-49

Tuliskan 2 (dua) keuntungan Konferensi Asia Afrika bagi Indonesia!

EBTANAS-99-50

Tuliskan 2 (dua) tujuan pembentukan Gerakan Non Blok!